



evropský
sociální
fond v ČR



EVROPSKÁ UNIE



MINISTERSTVO ŠKOLSTVÍ,
MLÁDEŽE A TĚLOVÝCHOVY



OP Vzdělávání
pro konkurenceschopnost

INVESTICE DO ROZVOJE VZDĚLÁVÁNÍ

VY_32_INOVACE_M_206

SLOVNÍ ÚLOHY 3. ROČNÍK

JEDNODUCHÉ SLOVNÍ ÚLOHY NA SČÍTÁNÍ A ODCÍTÁNÍ A NA SČÍTÁNÍ A ODCÍTÁNÍ S POROVNÁVÁNÍM

Autor: Mgr. Irena Štěpánová

Použití: 3. ročník

Datum vypracování: 10. 8. 2012

Datum pilotáže: 10. 4. 2013

Anotace: Pracovní list je zaměřený na procvičení jednoduchých slovních úloh na sčítání a odčítání a na sčítání a odčítání s porovnáváním.

Klíčová slova: zadání, zápis, znázornění, výpočet, odpověď

Základní škola Kladno, Vašatova 1438

Autorem materiálu a všech jeho částí, není-li uvedeno jinak, je Mgr. Irena Štěpánová

Metodika:

- Na začátku hodiny si žáci zopakují postup při řešení jednoduchých slovních úloh na sčítání a odčítání a na sčítání a odčítání s porovnáváním viz. materiál 201, 202.
- Pracovní list: Časová dotace 10 - 15 minut. Žáci řeší 10 slovních úloh, sestaví a správně vypočítají příklad a napíše odpověď. Následně výsledky slovních úloh vztupně srovnají. Výsledky najdou v obrázku a postupně spojí čarou. Vzniklý obrázek žáci vybarví.

PRACOVNÍ LIST



Najdeš skrytý obrázek?

Vyřeš slovní úlohy, zapiš příklad a napiš odpověď. Pak výsledky slovních úloh srovnej vzestupně (od nejmenšího po největší). Výsledky najdi v obrázku a postupně je spoj čárou. Nakonec největší výsledek spoj s nejmenším. Vzniklý obrázek vybarvi.

1. V plaveckém bazénu je 68 osob. V aquaparku je o 56 osob více. Kolik osob je v aquaparku?

Výpočet:

Odpověď:

2. Na výstavu obrazů přišlo dopoledne 26 osob. Odpoledne jich přišlo o 118 více. Kolik návštěvníků přišlo na výstavu obrazů odpoledne?

Výpočet:


Odpověď:

3. Honzík četl zajímavou knihu. V neděli přečetl 56 stran, ale v pondělí o 42 stran méně. Kolik stran přečetl Honzík v pondělí?

Výpočet:

Odpověď:

4. Sebastian váží 42 kg. Dan váží o 13 kg méně. Kolik kg váží Dan?



Výpočet:

Odpověď:

5. Děti sbíraly samolepky zvířat. Aleš měl 120 samolepek a Jirka o 26 samolepek více. Kolik samolepek nasbíral Jirka?

Výpočet:

Odpověď:

6. Děti měly za úkol nasbírat 320 kg starého papíru. Za měsíc leden nasbíraly již 250 kg. Kolik jim ještě zbývá nasbírat?

Výpočet:

Odpověď:

7. Lukáš a Petr hráli počítačové hry. Lukáš vyhrál a získal 480 bodů. Petr získal o 15 bodů méně. Kolik bodů získal Petr?

Výpočet:

Odpověď:

8. Pracovní sešit z matematiky stál 89 Kč a PS z anglického jazyka byl o 112 Kč dražší. Kolik korun stál pracovní sešit z anglického jazyka?

Výpočet:

Odpověď:

9. Stavebnice stála původně 365 Kč, ale byla zlevněna o 80 Kč. Kolik Kč stála stavebnice po slevě?

Výpočet:

Odpověď:




10. Jarušce je 17 roků. Babička je o 72 roků starší. Kolik roků je babičce?

Výpočet:

Odpověď:

VZESTUPNĚ SROVNANÉ VÝSLEDKY SLOVNÍCH ÚLOH:

OBRÁZEK:



ŘEŠENÍ



Najdeš skrytý obrázek?

Vyřeš slovní úlohy, zapiš příklad a napiš odpověď. Pak výsledky slovních úloh srovnej vzestupně (od nejmenšího po největší). Výsledky najdi v obrázku a postupně je spoj čárou. Nakonec největší výsledek spoj s nejmenším. Vzniklý obrázek vybarvi.

1. V plaveckém bazénu je 68 osob. V aquaparku je o 56 osob více. Kolik osob je v aquaparku?

Výpočet: $68 + 56 = 124$

Odpověď: **V aquaparku je 124 osob.**

2. Na výstavu obrazů přišlo dopoledne 26 osob. Odpoledne jich přišlo o 118 více. Kolik návštěvníků přišlo na výstavu obrazů odpoledne?

Výpočet: $26 + 118 = 144$

Odpověď: **Na výstavu obrazů přišlo odpoledne 144 návštěvníků.**

3. Honzík četl zajímavou knihu. V neděli přečetl 56 stran, ale v pondělí o 42 stran méně. Kolik stran přečetl Honzík v pondělí?


Výpočet: $56 - 42 = 14$

Odpověď: **Honzík přečetl v pondělí 14 stran.**

4. Sebastian váží 42 kg. Dan váží o 13 kg méně. Kolik kg váží Dan?

Výpočet: $42 - 13 = 29$

Odpověď: **Dan váží 29 kg.**



5. Děti sbíraly samolepky zvířat. Aleš měl 120 samolepek a Jirka o 26 samolepek více. Kolik samolepek nasbíral Jirka?

Výpočet: $120 + 26 = 146$

Odpověď: **Jirka nasbíral 146 samolepek zvířat.**

6. Děti měly za úkol nasbírat 320 kg starého papíru. Za měsíc leden nasbíraly již 250 kg. Kolik jim ještě zbývá nasbírat?

Výpočet: $320 - 250 = 70$

Odpověď: **Dětem zbývá nasbírat 70 kg starého papíru.**

7. Lukáš a Petr hráli počítačové hry. Lukáš vyhrál a získal 480 bodů. Petr získal o 15 bodů méně. Kolik bodů získal Petr?

Výpočet: $480 - 15 = 465$

Odpověď: **Petr získal v počítačové hře 465 bodů.**

8. Pracovní sešit z matematiky stál 89 Kč a PS z anglického jazyka byl o 112 Kč dražší. Kolik korun stál pracovní sešit z anglického jazyka?

Výpočet: $89 + 112 = 201$

Odpověď: **Pracovní sešit z anglického jazyka stál 201 Kč.**

9. Stavebnice stála původně 365 Kč, ale byla zlevněna o 80 Kč. Kolik Kč stála stavebnice po slevě?

Výpočet: $365 - 80 = 285$

Odpověď: **Stavebnice stála po slevě 285 Kč.**



10. Jarušce je 17 roků. Babička je o 72 roků starší. Kolik roků je babičce?


Výpočet: $17 + 72 = 89$

Odpověď: **Babička je 89 roků.**

VZESTUPNĚ SROVNANÉ VÝSLEDKY SLOVNÍCH ÚLOH:

14, 29, 70, 89, 124, 144, 146, 201, 285, 465

OBRÁZEK:



Použité zdroje:

kliparty - Obrázky galerie programu MS WORD 2010